

LÍNGUA PORTUGUESA

Número de Questões: 08 (oito)

Valor de Cada Questão: 2,5 pontos

Os jovens e a felicidade

01 Vivemos todos sobrecarregados de uma infinidade de ofertas que a modernidade, ou se já podemos chamar de pós-modernidade, nos convida a experimentar, principalmente quando o assunto é
05 felicidade. A prova disso aparece quando perguntamos aos jovens o que querem da vida, e obtemos como resposta: “o que queremos é ser feliz”. Parece um pouco libertador demais, pois as dúvidas surgem justamente quando lhes perguntamos em que consiste
10 a felicidade, ou de que precisam, para serem felizes.

Personagens de um mundo pós-moderno, os jovens atualmente sofrem inquietações características do nosso tempo. Imersos numa atmosfera onde tudo é transitório, veloz e globalizado, a dificuldade surge
15 quando necessitam fazer um recorte, neste contexto sedutor e fascinante, que, constantemente, lhes oferta receitas, mediadas pela imagem, do que é uma pessoa feliz.

A moda dita estereótipos e estilos, o mercado
20 esbanja objetos e bens de consumo. Todavia, devido a essa pluralidade de elementos, o que vale para hoje pode não valer mais para amanhã. Assim, ao perdermos as referências, esquecemo-nos de onde viemos e quem somos e, de uma hora para outra,
25 somos convocados a aprender a lidar com esse sentimento de insegurança na tentativa de nos adaptarmos a um universo repleto de instabilidades.

A originalidade e a felicidade surgem para o jovem como um imperativo: “ou você é feliz ou é um
30 fracassado, o mercado lhe dá “n” possibilidades de existência, escolha e seja original”. A frustração, neste caso, aparece quando se compra a imagem e o espelho a contradiz. Ou quando se percebe que a felicidade, inevitavelmente, não vem junto com os bens que
35 conseguimos adquirir.

A falta é inerente aos seres humanos e muito mais perceptível nos jovens, que querem tudo, mas, na verdade, não sabem bem o que esse tudo significa. Muitas vezes o que falta não dá para ver a olhos nus,
40 porque diz das relações humanas, de um alicerce que lhes dê referência e os ajude a seguir. Talvez o que falta esteja realmente nas pequenas coisas, na família, nos amigos, na escola, na fé – “não apenas na rosa, mas naquilo que precede e prepara a flor, não apenas
45 no caule e nas folhas, mas nas raízes, intrometidas no solo da mãe terra, rica em nutrientes e, no entanto, fervilhando de minhocas e lesmas, e abundante de possibilidades (H. Wrye).

Então, só para lembrar: temos buscado a felicidade
50 a partir da imagem da flor ou na abundância das possibilidades?

BAPTISTA, Laura - Psicóloga

01. Considere as seguintes afirmações:

- I- Os jovens querem ser incondicionalmente felizes.
- II- As características da pós-modernidade não interferem na felicidade dos jovens.
- III- Os jovens encontrarão a felicidade quando reconhecerem a abundância de possibilidades que a vida lhes oferece.
- IV- A felicidade para os jovens é inerente à própria vida.

De acordo com o texto, é correto o que se afirma apenas em:

- A) I
- B) II
- C) III
- D) I e III
- E) II e IV

02. A ocorrência “... um universo repleto de instabilidades.” (l. 27) expressa:

- A) vida cheia de riscos e incertezas.
- B) vida contemplada de satisfações.
- C) vida repleta de aventuras e emoções.
- D) vida plena de insucessos.
- E) vida pautada pelo livre arbítrio e altruísmo.

03. O texto em estudo é:

- A) uma dissertação expositiva.
- B) um artigo de opinião.
- C) uma narração.
- D) uma crônica.
- E) uma descrição psicológica.

04. A ocorrência “... mas nas raízes, intrometidas no solo da mãe terra, ...” (l. 45 e 46) constitui:

- A) uma comparação.
- B) uma metáfora.
- C) uma metonímia.
- D) uma repetição.
- E) uma agradação.

05. “Assim, ao perdermos as referências, esquecemo-nos de onde viemos e quem somos...” (l. 22 à 24)

A oração reduzida em destaque denota, considerando-se o contexto:

- A) condição
- B) finalidade
- C) temporalidade
- D) proporcionalidade
- E) concessão

06. A palavra inerente (l. 36), de acordo com o texto em estudo, significa:

- A) peculiar
- B) referente
- C) inexorável
- D) indiscutível
- E) persistente

MATEMÁTICA

Número de Questões: 08 (oito)

Valor de Cada Questão: 2,5 pontos

07. O trecho que inicia o segundo parágrafo, “personagens de um mundo pós-moderno,” mantendo-se o sentido original, só não pode ser substituído por:

- A) Porque são personagens de um mundo pós-moderno,
- B) Como são personagens de um mundo pós-moderno,
- C) À medida que são personagens de um mundo pós-moderno,
- D) Porquanto são personagens de um mundo pós-moderno,
- E) Visto que são personagens de um mundo pós-moderno,

08. Observe:

- I- Vivemos todos sobrecarregados de uma infinidade de ofertas que a modernidade (...) nos convida a experimentar... (l. 1 à 4)
- II- Ou quando se percebe que a felicidade, inevitavelmente, não vem... (l. 33 e 34)
- III- ... não vem junto com os bens que conseguimos adquirir. (l. 34 e 35)

Assinale a afirmação correta quanto à palavra “que”, destacada nos itens acima.

- A) Em I, II e III, exerce a mesma função sintática.
- B) Exerce a mesma função sintática em I e III.
- C) Em II, é um pronome relativo.
- D) Em I, funciona como sujeito; em III, como objeto direto.
- E) Em I e II, não exerce função sintática.

09. Ano passado, uma geladeira custava R\$ 1600,00 e um fogão, R\$ 400,00. Este ano, o preço da geladeira aumentou 5%, e o do fogão, 10%. O aumento percentual do conjunto geladeira e fogão foi de:

- A) 6%
- B) 7%
- C) 7,5%
- D) 8%
- E) 15%

10. <EPIDEMIA> Até setembro, foram notificados 481.316 casos de dengue no País, ante 321.368 casos no mesmo período de 2006. Deste total, 36.387 ocorrências foram registradas no Ceará, segundo o Ministério da Saúde. Temporão admite que a situação é de epidemia.

Fonte: Jornal “O Povo”, 17/10/2007.

Da leitura da notícia acima pode-se concluir que:


- A) Uma situação de epidemia fica caracterizada quando se atinge exatamente 480000 casos.
- B) Em 2006, existiram mais de 400000 casos de dengue no Brasil.
- C) Em 2007, o número de pessoas infectadas será superior a 550000.
- D) Dos casos notificados em 2007 até o momento menos de 1/8 foram no Ceará.
- E) Fortaleza é o município do estado com maior ocorrência de dengue.

11. Em uma sacola existem 10 meias pretas e 10 meias azuis, que diferem apenas pela cor. Aninha vai retirar, sem olhar, meias da sacola ao acaso. O número mínimo de meias que deve ser retirado para que ela tenha certeza de que retirou um par da mesma cor é:

- A) 3
- B) 6
- C) 9
- D) 11
- E) 12

12. No jardim do Sr. Gilson, existem rosas brancas e vermelhas. Se colhermos uma rosa vermelha, $\frac{1}{7}$ das flores restantes serão vermelhas. Se, ao invés disso, retirarmos duas rosas brancas, $\frac{1}{5}$ das flores restantes serão vermelhas. O número total de flores no jardim é:
- A) 8
 - B) 22
 - C) 25
 - D) 36
 - E) 64

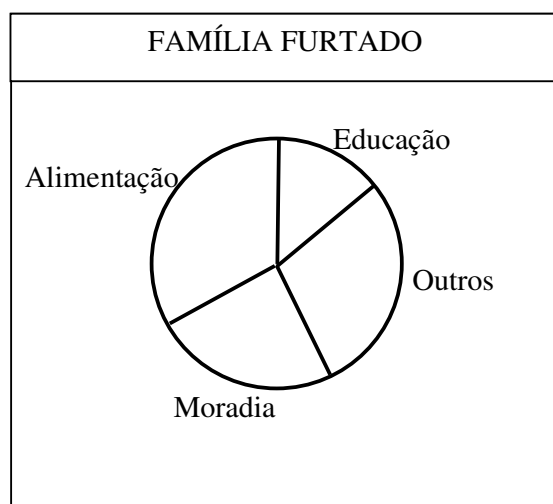

13. O piso de uma praça será construído assumindo uma forma poligonal composta por 28 segmentos de reta congruentes, como representado na figura ao lado. Cada lado é perpendicular aos dois que lhes são adjacentes. Se o perímetro do polígono é 196m, então a área total do piso será igual a:



- A) 1225m^2
- B) 1250m^2
- C) 1275m^2
- D) 1300m^2
- E) 1325m^2

14. Um cubo de metal precioso com 2cm de aresta pesa 20 gramas e custa R\$ 1200,00. Assinale a alternativa que contém o preço de um cubo, do mesmo material, com 3cm de aresta.
- A) R\$ 1500,00
 - B) R\$ 1800,00
 - C) R\$ 2650,00
 - D) R\$ 3780,00
 - E) R\$ 4050,00

15. Os gráficos de setores abaixo ilustram a relação entre a renda mensal das famílias Porto e Furtado e as quantias gastas em cada atividade.



A partir dessas informações podemos garantir que:

- A) O valor gasto pela família Porto com moradia é maior que o da família Furtado.
 - B) O dinheiro investido em educação pelas duas famílias é praticamente o mesmo.
 - C) A família Furtado gasta aproximadamente 50% de sua renda mensal com alimentação e educação.
 - D) A família Porto gasta mais com educação do que com moradia.
 - E) A família Furtado gasta mais com moradia do que com alimentação.
16. Ao comprar as camisas para o seu time de futebol, o professor Mardônio conseguiu um desconto de R\$ 15,00 em cada uma. Por esse motivo, conseguiu comprar 3 camisas a mais do que compraria sem o desconto. Se o valor total da compra foi de R\$ 540,00, então o preço pago por camisa foi:
- A) R\$ 30,00
 - B) R\$ 35,00
 - C) R\$ 40,00
 - D) R\$ 45,00
 - E) R\$ 50,00

HISTÓRIA

Número de Questões: 08 (oito)

Valor de Cada Questão: 2,5 pontos

17. Sobre o Segundo Reinado, assinale a afirmativa correta:
- A) O golpe da maioria, realizado pelos conservadores, antecipou a discussão relativa à República.
 - B) A lei Silva Ferraz acelerou o processo de industrialização.
 - C) Pela versão da historiografia tradicional, o Brasil participou da guerra do Paraguai devido à influência inglesa.
 - D) O sistema bancário, a vinda de imigrantes europeus e a melhoria dos portos estão ligados à economia cafeeira.
 - E) Os dois grandes partidos do período foram o moderado e o restaurador.
18. Sobre a política cearense, marque a alternativa verdadeira:
- A) O crescimento da linha esquerdista na década de sessenta fez com que as forças direitistas se unissem em prol da candidatura de Virgílio Távora ao governo do estado.
 - B) O comunismo sempre esteve presente na política do estado, principalmente no interior, onde as famílias tradicionais praticavam uma política democratizante.
 - C) A instalação de um regime militar no Ceará, com o golpe de 1964, fortaleceu o poder legislativo estadual.
 - D) Nas eleições de 1986, foi eleito governador do Estado Tasso Jereissati com o apoio dos coronéis Virgílio Távora, César Cals e Aduino Bezerra.
 - E) Padre Cícero Romão Batista, defensor dos pobres e desvalidos, combateu a oligarquia aciolina, que dominava a política cearense.
19. Sobre o processo histórico que culminou com a Independência política do Brasil, assinale a alternativa INCORRETA:
- A) A transferência da Corte portuguesa para o Brasil favoreceu o início do processo de separação política. Duas das principais medidas de caráter econômico adotadas foram: a abertura dos portos às nações amigas e a revogação do alvará que proibia as manufaturas no País.
 - B) A Revolução Liberal do Porto, de caráter antiabsolutista, exigiu o retorno de D. João a Portugal. Propunha a recolonização do Brasil, o que gerou, internamente, a formação de vários grupos: o "Partido Português", que defendia a recolonização; o "Partido Brasileiro" e os liberais radicais, que eram contrários.
 - C) A emancipação política do Brasil alterou as bases da estrutura política e social do País. As elites nordestinas em ascensão conduziram à formação do Estado Nacional, baseado na unidade territorial e lingüística.
 - D) A insistência das Cortes em recolonizar o Brasil acabou por forçar as elites brasileiras a se unirem em torno de D. Pedro I pela emancipação definitiva, na tentativa de preservar seus interesses econômicos.
 - E) A nossa independência diferenciou-se da dos outros países americanos, pois estes a fizeram adotando o sistema republicano, enquanto o Brasil optou pela monarquia
20. Após a Segunda Guerra Mundial, pela Carta de São Francisco foi criada a Organização das Nações Unidas com o objetivo de manter a paz e a Segurança Mundial. Entre os seus vários órgãos, há o Conselho de Segurança, que é formado por quinze membros, sendo dez temporários e cinco permanentes com direito a veto. Além dos Estados Unidos, são membros permanentes:
- A) Inglaterra, Alemanha, França e Rússia
 - B) Japão, Alemanha, França e Inglaterra.
 - C) Alemanha, Rússia, Inglaterra e França
 - D) França, Inglaterra, Rússia e China
 - E) China, Rússia, Alemanha e Inglaterra
21. Minha maior glória não consistiu em ter ganho quarenta batalhas; Waterloo apagará a memória de tantas vitórias. O que nada apagará, o que viverá eternamente, é o meu Código Civil.
- Napoleão Bonaparte*
- O Código Civil Napoleônico, promulgado em 1804, assegurava:
- A) que os reis franceses só poderiam aumentar impostos ou alterar as leis com a aprovação do Grande Conselho, composto por membros do clero, burgueses e nobres.
 - B) as conquistas burguesas, como a igualdade do indivíduo perante a lei, o direito à propriedade e a proibição da organização de sindicatos de trabalhadores e das greves.
 - C) uma organização da Europa em novas bases econômicas e sociais, fixando uma bipolarização ideológica marcada pela tensão internacional, o que reativou o confronto com a Inglaterra.
 - D) a harmonização dos interesses conflitantes do capital e do trabalho dentro dos quadros das corporações, defendendo que tudo deveria ser feito para a nação, pois esta representava a mais alta forma de sociedade.
 - E) um planejamento econômico e social baseado na intervenção do Estado na economia, através de investimentos estatais de monta, estimulando uma política de pleno emprego.
22. Sobre o processo de descolonização afro-asiática ocorrida após a Segunda Guerra Mundial, assinale a alternativa correta:
- A) Como resultado da Guerra do Vietnã, tivemos a divisão do Vietnã em dois países: o Vietnã do Norte, apoiado pelos Estados Unidos, e o Vietnã do Sul, com apoio da China.

- B) O Timor Leste conseguiu sua independência da Indonésia somente no século XXI.
- C) Como consequência da descolonização, tivemos a reunificação das duas Coreias em um único país, que segue a orientação norte-americana.
- D) Por praticarem a mesma religião, Índia e Paquistão são exemplos de convivência pacífica nas suas fronteiras.
- E) O Vietnã, a Índia e a Indonésia eram colônias francesas antes de sua independência.
- 23.** Sobre a evolução constitucional brasileira, assinale a alternativa correta:
- A) Em todas as nossas constituições, foi determinada a religião católica como oficial.
- B) O direito de greve foi sacramentado na Constituição de 1934.
- C) A Constituição do Estado Novo, outorgada em 1937, reflete o pensamento democrático vigente no Brasil naquele período.
- D) O direito de voto conferido aos analfabetos e aos maiores de 16 anos são inovações da Constituição de 1988.
- E) O salário mínimo, o décimo terceiro salário e a licença paternidade são conquistas do trabalhador na Constituição de 1934.
- 24.** O Pacote de Abril e a Lei Falcão, editados no governo do Presidente Ernesto Geisel, tinham por objetivo:
- A) garantir o partido do governo – MDB – como partido majoritário na Câmara dos Deputados e Senado Federal.
- B) propiciar uma maior abertura política, visto que a linha dura tentava desestabilizar o governo.
- C) evitar o crescimento da inflação, que, naquele período, corroía os salários dos empregados.
- D) impedir a vitória da oposição nas eleições seguintes, principalmente nas eleições de 1978.
- E) favorecer o crescimento da economia, visto que, neste período, se comemorava o grande desempenho econômico com o “Milagre brasileiro”.

GEOGRAFIA

Número de Questões: 08 (oito)
Valor de Cada Questão: 2,5 pontos

- 25.** Entre os elementos básicos das representações cartográficas estão as coordenadas geográficas, que:
- A) são símbolos utilizados exclusivamente na confecção de mapas e cartas climáticas.
- B) são sinais aplicados na delimitação de cotas altimétricas e batimétricas do relevo.
- C) são referências gráficas que indicam áreas de mesma temperatura no globo terrestre.
- D) servem para relacionar a distância real com a distância gráfica expressa nos mapas.
- E) servem para identificar zonas climáticas diferentes e constituem um sistema de orientação.
- 26.** Analise os seguintes conceitos:
- I. O solo é um componente natural da paisagem, formado pela decomposição das rochas por processos físicos, químicos e biológicos, constituído por minerais, matéria orgânica, água e ar.
- II. Intemperismo é um conjunto de processos mecânicos, químicos e biológicos que ocasionam a desintegração e a decomposição das rochas.
- III. Em ambientes úmidos, os solos são profundos, devido à predominância do intemperismo físico.
- É correto o que se afirma apenas em:
- A) I
- B) I e II
- C) II
- D) II e III
- E) III
- 27.** Quanto ao perfil do relevo brasileiro atual, é possível afirmar corretamente que:
- A) possui evidências de atividades tectônicas orogênicas (dobramentos modernos).
- B) predominam as planícies como maiores unidades do relevo.
- C) possui altitudes modestas, devido à antiguidade geológica e à ação erosiva do clima tropical.
- D) predominam os terrenos cristalinos na disposição rochosa.
- E) sua estrutura geológica é composta apenas por bacias sedimentares.
- 28.** Tratando-se das condições geoambientais do domínio morfoclimático das caatingas, é correto afirmar que:
- A) há evidente predominância de rochas sedimentares, condições hidroclimáticas semi-áridas e subúmidas, rios perenes e vegetação higrófila.
- B) predominam solos rasos, devido ao intemperismo físico, revestidos por plantas xerófilas, rios intermitentes sazonais e ocorrência de inselbergs.
- C) predominam condições climáticas semi-áridas, vegetação arbórea e higrófila, rios perenes e solos profundos, devido ao intemperismo químico.

- D) predominam solos delgados, devido ao intemperismo químico, vegetação acicufoliada arbórea, condições climáticas subtropicais.
- E) há uma predominância de chapadas cristalinas, recobertas por cerrado, com solos ácidos e uma drenagem perene.
- 29.** As jazidas de carvão mineral são exploradas como recurso mineral em várias partes do mundo. Sobre essas jazidas, é correto afirmar que se trata de rochas:
- A) formadas através do resfriamento do magma, podendo ser utilizadas como brita.
- B) formadas sob forte pressão e seus depósitos são recursos renováveis.
- C) de elevada dureza, sendo bastante usadas como rochas ornamentais.
- D) ricas em matéria orgânica, podendo ser aproveitadas na obtenção de combustível.
- E) não consolidadas, formando depósitos arenosos utilizados, atualmente, apenas na construção civil.
- 30.** Sobre os aspectos demográficos, é correto afirmar que:
- A) O crescimento populacional de um país é sempre igual ao crescimento vegetativo.
- B) Os reformistas são a favor do controle de natalidade, rígido e disciplinado pelo Estado.
- C) Segundo a teoria de Malthus, o crescimento populacional obedece a uma progressão geométrica, enquanto o crescimento na produção de alimentos, a uma progressão aritmética.
- D) Os neomalthusianos são favoráveis a uma reforma na distribuição da renda e da terra, a uma reforma na saúde e na educação, para solucionar a miséria e a pobreza nos países subdesenvolvidos.
- E) Os reformistas são adeptos das formulações teóricas dos neomalthusianos.
- 31.** A China tem apresentado um surpreendente crescimento econômico nas últimas décadas. Sobre esse fenômeno é correto dizer que:
- A) o crescimento chinês se baseia principalmente na expansão das exportações financiadas por investimentos do Estado e do capital internacional.
- B) o crescimento chinês foi baseado na transformação do modelo comunista em democracia liberal capitalista.
- C) o crescimento chinês está baseado no programa de Mao-Tse-Tung do “Grande Salto para Frente”, que permitiu o avanço da tecnologia chinesa.
- D) a China assumiu o papel da antiga URSS no bloco socialista e deve seu crescimento à formação de um bloco econômico com o Japão e a Coreia.
- E) o crescimento econômico chinês atual é baseado no controle estatal da economia e da política pelo PCCh (Partido Comunista Chinês).
- 32.** Nos últimos anos, tem ocorrido a valorização de novos setores industriais no Ceará. Porém, os maiores investimentos industriais no Ceará ainda se dão em torno dos chamados setores tradicionais como os de:
- A) fiação, tecelagem e calçados.
- B) informática, robótica e biotecnologia.
- C) siderurgia, metalurgia e petroquímica.
- D) telecomunicação, calçados e química.
- E) beneficiamento do algodão e da cera de carnaúba.

INGLÊS

Número de Questões: 08 (oito)
Valor de Cada Questão: 2,5 pontos

As questões que se seguem relacionam-se ao texto abaixo:

01 The British government is to use shock tactics in its latest attempt to discourage smokers from smoking. Gory photographs highlighting the health hazards of smoking will be plastered on cigarette packets. These
05 will include images of diseased lungs blackened by tar next to a set of clean, healthy lungs. A total of sixteen pictures have been selected to scare existing and potential smokers. These will all be accompanied by stronger written health warnings. The new initiative
10 will take place by the end of 2009. Britain's Health Secretary Alan Johnson told BBC News that other countries have successfully used similar graphic photos. "We do think it will help the number of people, who want to give up smoking - the vast
15 majority of smokers want to give up - and this will give them an extra push," he said.

Anti-smoking campaigners welcomed the new warnings on tobacco products. They say it is important for people to be more aware of the effects smoking has
20 on vital body organs. Amanda Sandford, from the anti-smoking group ASH, said she hoped the strong images would make more people quit. "Evidence from international studies is that the stronger warnings are better," she said. She is also pleased the adverts will
25 coincide with the raising of the minimum age for buying cigarettes, which rises from 16 to 18. However, smokers' rights groups are up in arms over the new attack on smoking. Neil Rafferty, from the group Forest, described the government's decision as the
30 "victimization" of smokers. "The government are bullying smokers simply because they can get away with it," he said.

33. Assinale o título adequado para o texto.

- A) Health in Britain
- B) Smoking statistics
- C) Cigarette packets to carry shocking pictures
- D) How to quit smoking
- E) Consequences of smoking in Britain

34. Outra maneira de apresentar o trecho "Anti-smoking campaigners welcomed the new warnings on tobacco products" (l. 17 e 18) é:

- A) Smokers are making campaigns against the use of tobacco.
- B) Non-smokers are making campaigns against the use of tobacco.
- C) Anti-smoking campaigners have been resisting the idea of the use of strong pictures on cigarette packets.
- D) Groups that fight against smoking liked the idea of using strong images on cigarette packets.
- E) Groups that fight for the rights of smokers liked the idea of using strong images on cigarette packets.

35. De acordo com o texto:

- I. Embalagens de cigarros no Reino Unido terão fotografias de pulmões doentes.
- II. Advertências em forma de texto escrito não existirão mais.
- III. Os fabricantes de cigarros terão dois anos para adaptar-se ao novo sistema.

É correto o que se afirma apenas em:

- A) I
- B) II
- C) I e II
- D) II e III
- E) I e III

36. De acordo com o texto, assinale a alternativa verdadeira:

- A) O Reino Unido é o primeiro lugar do mundo a utilizar a tática descrita.
- B) Grupos anti-tabagismo não estão contentes com as novas medidas.
- C) Há evidências, ao redor do mundo, de que advertências com conteúdo chocante são eficientes.
- D) Atualmente, jovens podem ser fumantes a partir dos 18 anos, no Reino Unido.
- E) Grupos a favor dos direitos dos fumantes não se manifestaram em relação à medida.

37. Na frase "However, smokers' rights groups are up in arms over the new attack on smoking.", a expressão sublinhada é sinônima de:

- A) climbing
- B) running from
- C) indifferent
- D) in favor of
- E) furious

38. Assinale a alternativa em que o sinônimo da palavra do texto **não** está corretamente indicado:

- A) tactics (linha 1) – strategies
- B) existing (linha 7) – current
- C) give up (linha 14) – quit
- D) welcomed (linha 17) – disapproved of
- E) bullying (linha 31) – persecuting

39. Se a parte sublinhada no trecho "...the vast majority of smokers want to give up..." fosse posta no tempo passado, seria:

- A) wants to give up
- B) wants to gives up
- C) wanted to gave up
- D) wanted to give up
- E) wanting to gave up

40. A palavra "They..." (linha 18) refere-se a:

- A) campaigners (linha 17)
- B) warnings (linha 18)
- C) products (linha 18)
- D) people (linha 19)
- E) effects (linha 19)

ESPANHOL

Número de Questões: 08 (oito)
Valor de Cada Questão: 2,5 pontos

EL DERECHO AL MÓVIL

**LAS COMPAÑÍAS ESTARÁN OBLIGADAS A VENDER
DISPOSITIVOS ADAPTADOS PARA DISCAPACITADOS**

EL PAIS 13/10/2007

01 "Uy, peligro", exclama divertida María Jesús mientras juega al buscaminas. "Dos, dos, tres", advierte el móvil. No puede ver en la pantalla los números que le indican que está a punto de activar una bomba y perder la partida. Es ciega. Pero el teléfono se lee. Lleva instalado el mobile speak, lo último en tecnología para móviles pensados para personas con alguna discapacidad.

10 "Antes, sólo me servía para hacer y recibir llamadas, no podía ni mandar mensajes, ni siquiera ver cuánto me quedaba de batería", comenta. Ella está a la última en este tipo de avances, ya que es la directora del centro de nuevas tecnologías de la Organización Nacional de Ciegos (ONCE). Allí cargan el mobile speak a los afiliados que lo soliciten. Pero no todos los terminales son compatibles con el programa. El primer requisito es que sea de tercera generación. Además, tiene que tener un sistema operativo especial, el symbian, que permite instalar aplicaciones.

20 Conscientes de estas dificultades, los operadores han lanzado ofertas que venden el paquete completo. Lo han hecho en colaboración con distintas asociaciones a precios atractivos. Movistar lo ofrece desde 109 euros y Vodafone cobra sólo el teléfono. A cambio, exigen un contrato de, al menos, 18 meses.

25 Responsabilidad. Es la respuesta a la pregunta del porqué al impulso de este tipo de dispositivos. "Tenemos que vender móviles para todos, nuestro deber es garantizar la accesibilidad universal. Al final acaba siendo un beneficio para todos", asegura con convicción Daniel Tapias, de Telefónica Movistar. Un deber moral que pronto será también legal. Y es que en el año 2013 todas las empresas estarán obligadas a vender terminales adaptados a personas con cualquier tipo de discapacidad.

35 Pero no todo lo explica la filantropía. 3,5 millones de clientes potenciales, más sus respectivos familiares y amigos. Estamos hablando de mucho dinero, considerando que está en juego un mercado muy competitivo. Según un estudio reciente elaborado por la Universidad de Deusto y Telefónica, el 90% de los minusválidos usa el móvil. Hablamos pues de un jugoso pastel y de un mercado muy competitivo. De ahí que las empresas incentiven la infidelidad aplicando un pequeño descuento a quienes abandonen otra compañía para unirse a la suya. Es lo que llaman portabilidad en el argot de la telefonía.

45 "Falta información, mucha gente no sabe que existen aplicaciones y servicios específicos", se queja

50 Begoña Gómez, responsable por la asociación de Familiares y Amigos de Personas Sordas (FIAPAS). Es una queja constante. Por eso muchas organizaciones permiten a los interesados probar estos dispositivos en sus sedes. "Aquí dejamos usar el lazo de inducción, y la mayoría de la gente sale encantada", comenta.

55 El lazo inductivo es un cable que se conecta al móvil y que se coloca alrededor del cuello. Sirve para eliminar las interferencias que causa el móvil en las personas con implantes auditivos, aunque sólo ayuda a quienes tengan implantes con bobina de inducción. Para personas con sordera profunda es más útil el blackberry. Se trata de un dispositivo con un teclado similar al del ordenador que permite navegar por Internet y utilizar un servicio de chat.

60 Las compañías se preparan para el futuro. Un real decreto que regula las condiciones de accesibilidad y no discriminación de los discapacitados obligará a los operadores a vender dispositivos accesibles para cualquier tipo de discapacidad, y las compañías tendrán de plazo hasta el año 2013 para aplicarlo. Este real decreto desarrolla la conocida como Ley Liondau, aprobada en diciembre de 2003 y que establecía la "accesibilidad universal". No impone ninguna tarifa, ni las asociaciones lo piden, según Luis Cayo, director ejecutivo del Comité Español de Personas con Discapacidad, CERMI: "No pedimos caridad, somos consumidores, como todo el mundo. No queremos tarifas especiales, sólo que haya servicios para todos".

70 Este decreto que debió aprobarse hace año y medio. La razón del retraso, según Cayo, es "el rechazo de las comunidades autónomas, porque tienen las competencias. Pero es que la discapacidad ha dejado de ser parte de los asuntos sociales, eso se ha superado. Ahora se entiende como un derecho que debe garantizar el Estado".

80 En palabras de la secretaria de Estado de Asuntos Sociales, Familia y Discapacidad, Amparo Valcarce, con la regulación de las empresas se completa lo que ella llama "el círculo virtuoso": legislación, innovación (Instituto Nacional de Tecnologías de la Comunicación) e implicación de las empresas.

90 **33.** O fragmento " ...ella está a la última en este tipo de avances..." (l. 11 e 12), indica que:

- A) Ela desconhece os avanços tecnológicos.
- B) Ela não dispõe de equipamentos atualizados.
- C) Ela tem acesso aos melhores recursos tecnológicos disponíveis.
- D) É a última pessoa a conhecer as novas tecnologias.
- E) Está sempre defasada em relação ao avanço tecnológico.

34. Segundo o texto, que se pode afirmar sobre María Jesús?
- A) É representante de uma grande empresa de telefonia móvel.
 - B) Não dispõe de recursos financeiros para adquirir programas informáticos de última geração.
 - C) Tem instalado em seu computador um novo programa que lhe permite fazer ligações telefônicas através da Internet.
 - D) Está à frente de uma entidade voltada aos interesses de deficientes visuais.
 - E) Reivindica que todas as pessoas com necessidades especiais tenham acesso às novas tecnologias da comunicação.
35. De acordo como o texto, que acontecerá às empresas de telefonia a partir do ano 2013?
- A) Terão que vender aparelhos telefônicos com preços acessíveis a todas as pessoas com necessidades especiais.
 - B) Estarão obrigadas a colocar no mercado aparelhos adaptados aos clientes com necessidades especiais.
 - C) Serão isentas de alguns impostos se estiverem ligadas a instituições filantrópicas.
 - D) Todos os seus aparelhos de telefonia móvel deverão ter o programa mobile speak.
 - E) Os preços de seus aparelhos não poderão ultrapassar 109 euros.
36. De acordo com o quinto parágrafo do texto, as empresas de telefonia têm interesse em produzir aparelhos para portadores de necessidades especiais porque:
- A) a legislação lhas obriga.
 - B) a partir do ano 2013, a telefonia móvel chegará aos 3,5 milhões de usuários.
 - C) esses aparelhos são mais caros que os modelos convencionais.
 - D) é uma demanda das entidades que representam as pessoas portadoras de necessidades especiais.
 - E) 90% das pessoas com necessidades especiais usam o telefone móvel.
37. Após a leitura do texto, que se pode afirmar sobre Luis Cayo, Begoña Gómez e María Jesús?
- A) Todos têm deficiência visual.
 - B) São usuários de aparelhos de telefonia móvel, usando programas de terceira geração.
 - C) Representam entidades voltadas aos interesses de pessoas com necessidades especiais.
 - D) Colaboram com a secretaria de Estado de Asuntos Sociales, Familia y Discapacidad.
 - E) São críticos contundentes da atual legislação sobre os direitos das pessoas com necessidades especiais.
38. Tomando como referência as informações contidas no texto, como as empresas incentivam a “infidelidade” dos clientes?
- A) Proporcionando descontos às pessoas para mudarem de operadora.
 - B) Através da distribuição de aparelhos gratuitos.
 - C) Incentivando o não pagamento de suas contas telefônicas.
 - D) Com a oferta de minutos grátis por tempo limitado.
 - E) Através da assinatura de um termo de migração automática para outra operadora.
39. Tomando como exemplo a frase abaixo, marque a opção correta quanto ao uso de MUY e MUCHO.
- “...Estamos hablando de mucho dinero, considerando que está en juego un mercado muy competitivo...”**
- A) Las industrias presentaron un modelo de móvil mucho caro.
 - B) Este teléfono es muy mejor que el otro que tenías.
 - C) Mucho se puede ver sobre los avances en los medios de comunicación en la actualidad.
 - D) El móvil puede ser un amigo mucho eficiente para los discapacitados.
 - E) Con esta nueva gama de aparatos móviles, las empresas ganarán muy.
40. Observe as palavras sublinhadas no fragmento a seguir e assinale a alternativa que corresponde às suas respectivas formas plurais.
- “...un teclado similar al del ordenador ...”.**
- A) als / delos
 - B) a los / de los
 - C) alos / dels
 - D) al os / dellos
 - E) allos / dells